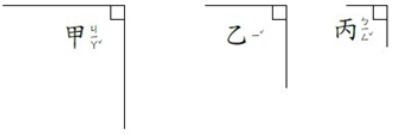
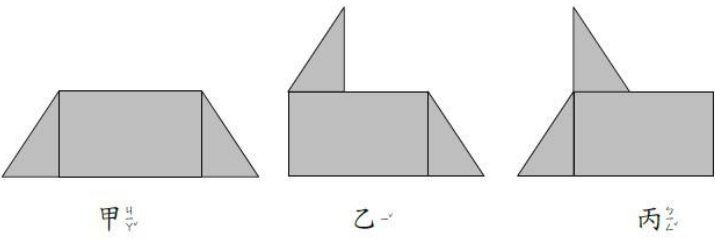



桃園市蘆竹區大華國小 111 學年度上學期三年級數學期末評量試卷				得分：
三年	班	座號：	姓名：	
家長簽名：				

一、選擇題：(12 分)

- () 1. 一本數學習作大約重 160 ____ ？
 ①公分 ②公克 ③公升 ④公斤
- () 2. 比比看，哪個角最大？


 ①甲 ②乙 ③丙 ④一樣大
- () 3. 一個披薩平分給幾個人，每個人可以吃到最大片？
 ①2 人 ②4 人 ③8 人 ④10 人
- () 4. 如下圖，弟弟將 1 個長方形和 2 個三角形圖卡分別拼成甲乙丙三個圖形，請問哪一個面積最大？


 ①甲 ②乙 ③丙 ④一樣大
- () 5. 老師有 31 張色紙，平分給 6 組學生，每組學生可以分到幾張？還剩下幾張？」小丁的計算結果為：
 $31 \div 6 = 5 \cdots 1$ 。請問下面哪個敘述正確？
 ①除數代表「31 張色紙」②被除數代表「平分給 6 組學生」 ③商代表「每組可以分到 5 張」
 ④餘數代表「少 1 張」
- () 6. 右圖是一個長方形。

 甲說： 4 個邊都一樣長。
 乙說： 有 4 個直角。
 丙說：左右的邊一樣長，上下的邊也一樣長。
 請問誰的說法正確？
 ①甲、乙 ②乙、丙 ③甲、丙 ④甲、乙、丙

二、填填看：(16 分)

1. 男生 20 人，女生有 16 人，把男生、女生合起來再平分
 成 4 組，每組有()人。
2. 一盒巧克力有 12 顆。
 (1)妹妹吃了 3 顆，是()盒巧克力。
 (2)哥哥吃 $\frac{5}{12}$ 盒，是()顆巧克力。
 (3)剩下的爸爸吃完，三人中吃最多巧克力的是()
3. 一盒草莓連盒子重3公斤60公克，
 一盒柳丁連盒子重3400公克。
 (1)哪一盒水果比較重？()
 (2)兩盒水果一共重()公斤()公克
 (3)吃完草莓發現盒子重325公克，原來草莓重()公克

三、在□裡填入>、<或=(4 分)

1. 2 公斤 43 公克 □ 2430 公克
2. $\frac{4}{12}$ □ 6 個 $\frac{1}{12}$
3. $\frac{4}{6}$ □ 六分之五
4. 900 公克 □ 9 公斤

三、 做做看：(50 分)

1. 下面圖形中哪裡有角？把它圈出來。

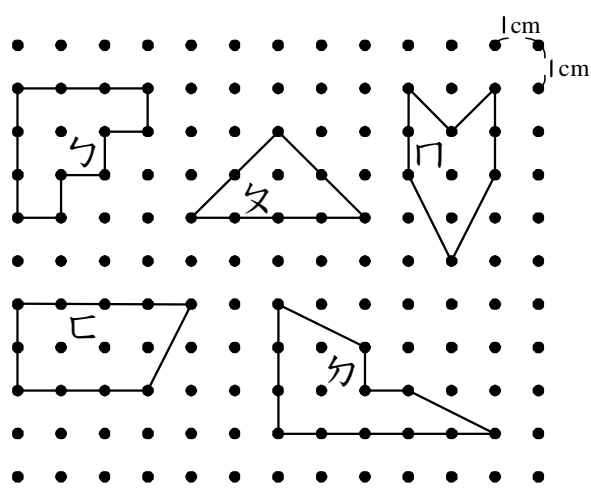
2. 在下面的方格中畫出面積 4 平方公分的正方形，並標示出直角。

3. 畫畫看，畫一個開口朝左的銳角：
4. 下圖中哪一隻魚嘴巴張開的角度比較大？()


 甲 乙
5. 妹妹愛畫圖，以下是他的小練習。估估看，正確的在□裡打✓，錯誤打✕(每答 1 分)


 □青蛙的面積比 1 cm²大
 □花朵的面積比 4 cm²小
 □兔子的面積有 6 cm²
 □貓咪的面積不到 2 cm²

6. 下面圖形的面積分別是多少？



ㄅ:(6)cm² ㄆ:()cm² ㄇ:()cm²
ㄏ:()cm² ㄏ:()cm²

7. 把一疊卡片，平分給 4 個小朋友，盡量分完，最後可能還剩幾張，圈圈看：(3 分)

1 張	2 張	3 張	4 張	5 張
-----	-----	-----	-----	-----

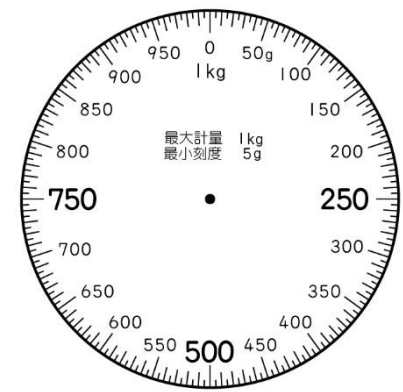
8. 這是一條紙帶。



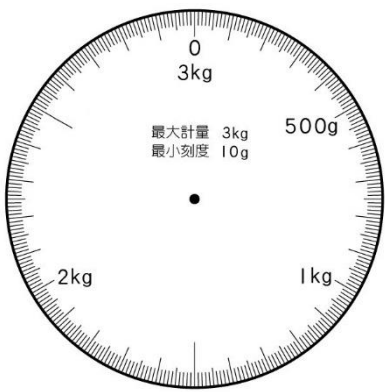
- (1)把其中 1 格塗上藍色，有顏色的是()條紙帶。
(2)再把其中 2 格塗上黃色，有顏色的一共是()條紙帶，
是()個 $\frac{1}{11}$ 條合起來的。
(3)9 個 $\frac{1}{11}$ 合起來是()。

9. 在秤面上畫出指定重量的指針位置。

(1) 420 公克

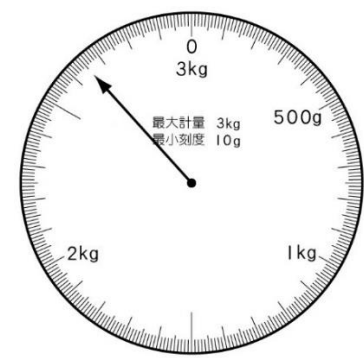


(2) 1 公斤 650 公克

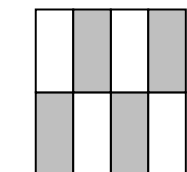


10. 秤面指針指的位置是多少？

(1)()公斤()公克 (2)()公克



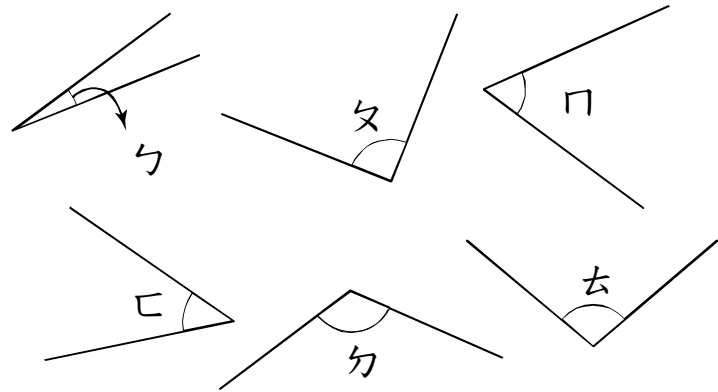
11. 如下圖，小花將色紙對摺幾次後，在其中一些部分塗上顏色，塗色的部分是()張色紙



12. 下面那些數除以 2，餘數會是 0，圈圈看(3 分)

32	81	96	47	65
----	----	----	----	----

13. 哪些角是直角？哪些角是銳角？哪些角是鈍角？將代號填入()中(每答一分)



- (1)直角：()
(2)銳角：()
(3)鈍角：()

四、算算看(1.2 題 3 分，3-5 題 4 分，共 18 分)

1. $42 \div 8 = () \cdots ()$	2. $56 \div 9 = () \cdots ()$
---------------------------------------	---------------------------------------

3. 2 公斤 144 公克－1098 公克=()公斤()公克

4. 三年級戶外教學來到哈哈遊樂園，一輛小火車一次可以載 7 個人，兩個班有 60 個小朋友都要坐一次，最少要載幾次？

5. 妹妹去逛文具店，發現一枝角落生物鉛筆 6 元，她帶了 52 元，最多可以買幾支鉛筆？還差多少元可以再買一隻？