

一、對的畫○，錯的畫× 4%

- () 1. 正三角形的三條邊都一樣長。
- () 2. 有一個銳角就是銳角三角形。
- () 3. 角的兩邊越長，角就越大。
- () 4. 兩個直角合起來是一個平角。

二、填填看 3%

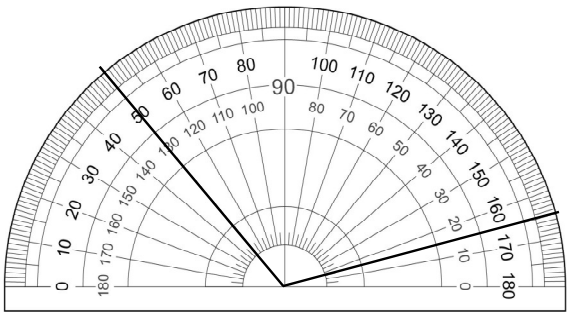
400×50=()

86×100=()，86×101=()

三、想一想，填入正確的答案。 42%

- (1) 8000600 讀作()，是()位數。
- (2) 72223-71223-()-()-68223
- (3) 「54968012」中的 9 換成 3，比原來的數減少()。
- (4) $8\square32540 < 8632540$ ， \square 中的數字可以是哪些？()。
- (5) $65)\overline{\square89}$ 商是一位數， \square 中可能是那些數字？()。

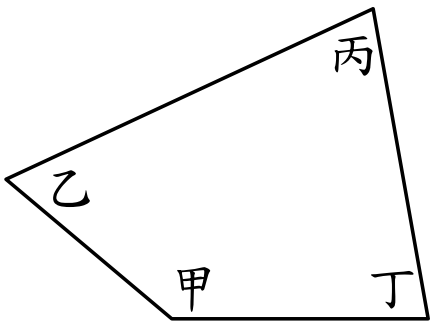
- (7) 下面的角是()度



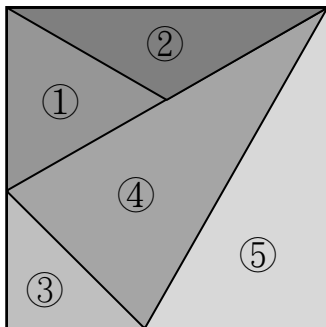
- (8) 量量看，填填看。

∠甲=_____度

∠丙=_____度

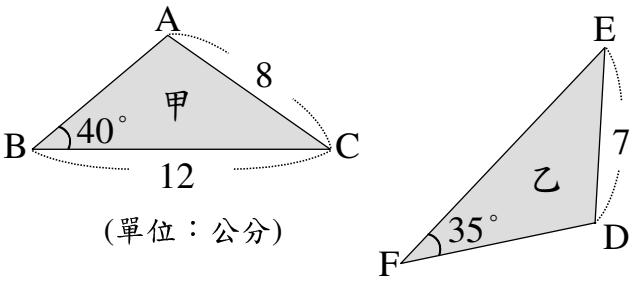


- (9) 看圖回答問題。(填入代號)




1. 銳角三角形是()
2. 鈍角三角形是()
3. 直角三角形是()
4. 正三角形是()
5. 等腰三角形是()
6. 等腰直角三角形是()

- (10) 下面是兩個全等三角形，請看圖回答問題。



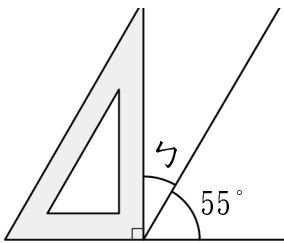
1. \overline{AB} 的對應邊是()。
2. $\angle E$ 的對應角是()，是()度。
3. 三角形乙的周長是()公分。

- (11) 看圖填填看。



1. 指針從數字 11()時鐘方向轉到數字 4。(填入順或逆)
2. 這個指針轉了()度。

- 四、下圖中 $\angle \sphericalangle$ 是幾度？寫出算式和答案。 3%



五、用直式算算看 12%

① $74 \times 29 =$

② $488 \times 205 =$

③ $9268 \div 315 =$

④ $470000 \div 6000 =$

六、動動腦，在□中填入正確的數字 8%

□73

×

36

2838

1□1□

17□28

23

)

4□9

46

29

□□

6

七、把作法用算式記下來。 12%

大華國小中年級戶外教育		
班級	參加人數	備註
301	27 人	3 號不參加
302	28 人	20 號不參加
401	21 人	5 號和 7 號不參加
402	22 人	11 號不參加
403	22 人	全班參加
共 5 班	共 120 人	共 5 位不參加
第一車：301 第二車：302 第三車：402+401(11 男生) 第四車：403+401(10 女生) *每位學生由學校代購麵包餐點一盒， 如擔心孩子吃不飽，可再多帶行動糧。		

(一) 每盒麵包 35 元，這次中年級戶外教育大華國小要付給麵包店多少元？

(二) 一台車資 7300 元，教育局補助每台車 5500 元，中年級戶外教育大華國小要付給車行多少元？

(三) 承上題，車資由每位學生平均分攤，請問一個人要付多少元？

八、看表回答問題 10%

下表是前幾天排行榜第一名的影片觀看次數。

日期	觀看次數(次)
11 月 1 日	780694
11 月 2 日	1000431
11 月 3 日	98 萬 9000

(一)以下直式計算中，對的畫○，錯的畫×

<div>□ 78 萬 694 + 100 萬 431 ----- 178 萬 1125 179 萬 125</div>	<div>□ 78 萬 694 + 100 萬 431 ----- 178 萬 1125</div>
---	---

(二)接上題，三天的觀看總次數是多少次？

(三)後兩天的觀看次數相差多少次？

九、畫畫看 6%

(一) 125 度的**鈍角三角形**

(二) 兩腰長是 4 公分的**等腰直角三角形**