

一、畫畫看看，做做看看：(每題 4 分，共 8 分)

1. 買一個 298 元的風箏，要怎麼付錢才會剛好？用 100、10 和 1 畫畫看看。

2. 曉風的撲克牌裏面有 4 張 100 元、6 個 10 元和 3 個 1 元，爸爸又給他 4 個 10 元，曉風現在一共有多少元？用 100、10 和 1 畫畫看看，再數一數。

()元

二、選擇題：(每題 2 分，共 20 分)

- () 1. 「五百零八」用阿拉伯數字記成多少？

(1)580 (2)508 (3)5008 (4)805
- () 2. 按照順序填填看看，880— 890— 900— □，□中應該填入什麼數？

(1)919 (2)970 (3)901 (4)910
- () 3. 按照順序填填看看，519— □— 719— 819，□中應該填入什麼數？

(1)610 (2)520 (3)629 (4)619
- () 4. 「709」表示有幾個十？

(1)7 個 (2)9 個

(3)0 個 (4)10 個
- () 5. 如圖，一共有多少元？

500

100100100100

55511

(1)990 元 (2)954 元

(3)917 元 (4)549 元
- () 6. 王老闆煮了 63 根玉米，賣出去一些後，還剩下 29 根，老闆賣出了幾根玉米？下面哪一個是正確的算式和答案？

(1)63— 29= 34，34 根

(2)63+ 29= 92，92 根

(3)29+ 63= 92，92 根

(4)63— 29= 44，44 根

- () 7. 哪種東西適合用 1 公尺長的尺量？

(1)書本的厚度

(2)教室的長度

(3)梳子的長度

(4)鉛筆盒的寬度
- () 8. 家裡床大概有多長？

(1)30 公分 (2)100 公分

(3)10 公尺 (4)2 公尺
- () 9. 佩嫻把抽屜裡的書做分類。

抽屜裡的書

課本

習作

數學國語生活健康與體育

數學國語生活

她把課本分成幾類？

(1)4 類 (2)5 類

(3)6 類 (4)7 類
- () 10. 建宏把今天到菜市場購買的食材料分成兩類。

午餐		晚餐	
肉類	蔬菜類	肉類	蔬菜類
雞腿肉	高麗菜	松阪豬	花椰菜
蝦子		牛排	空心菜
石斑魚			
(甲)	(乙)	(丙)	(丁)

今天來家裡作客的叔叔帶了晚餐加菜用的鮭魚，應該分類在哪一個格子？

(1)甲 (2)乙 (3)丙 (4)丁

三、連連看看：(每個答案 2 分，共 12 分)

1000

320

709

612

506

200

三百二十

一千

六百一十二

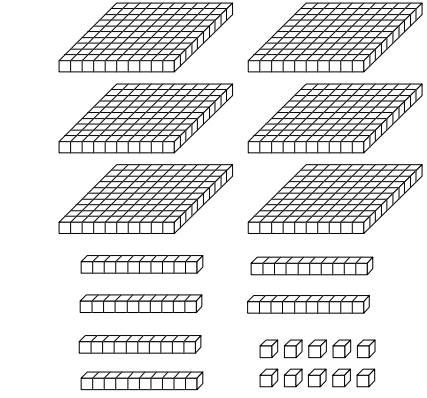
七百零九

兩百

五百零六

四、圖圖看看(每個答案 2 分，共 23 分)

1. 把「5 個百、2 個十和 7 個一」合起來的數圈起來。(5 分)



2. 估估看看，把 48 顆紅球和 33 顆藍球放進桶子裡，大約有幾顆球？圈圈看看。

70 顆 80 顆 90 顆

3. 估估看看，哪一個數最接近正確答案？圈圈看看。
42 + 37 =

70 80 90

3. 圈出答案是哪 20 的算式。
3 × 8 3 × 6 2 × 9 5 × 4

6 × 4 4 × 8 8 × 3 4 × 6

4 × 5 6 × 3 9 × 2 6 × 2

4. 寫出兩種不同乘法的算式。(每格 1 分)

(1) () × () = ()
(2) () × () = ()

五、計算題：(每個答案 3 分，共 12 分)

1. 600 公分 - 2 公尺 = () 公尺
2. 3 公尺 - 200 公分 = () 公尺
3. 226 + 254 = ()
4. 532 - 17 = ()

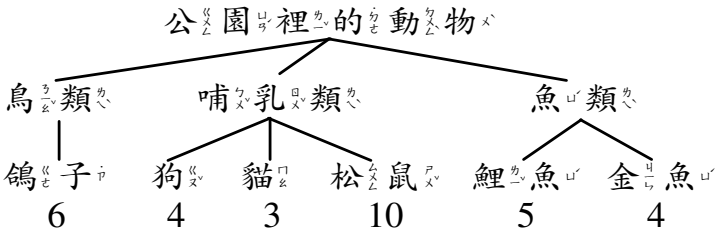
六、看表填填看看：(每題 2 分，共 8 分)

1. 下面是青、青蔬、果行今日進貨紀錄表。

蔬菜類			水果類		
青江菜	高麗菜	小白菜	蘋果	水梨	芭樂
65 包	102 包	89 包	45 顆	38 顆	62 顆

- (1) 今天進貨的蔬菜類中，() 菜最多，有 () 包。
- (2) 今天進貨的水果類中，() 最少，有 () 顆。

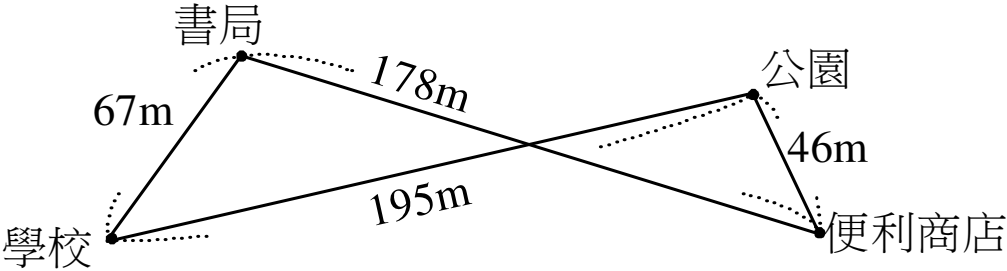
2. 下面是公園裡的動物紀錄，看分類紀錄回答問題。(每個答案 2 分，共 6 分)



- (1) 哺乳類總共有 () 隻。
- (2) 魚類總共有 () 隻。
- (3) 公園裡的動物總共有 () 隻。

七、應用題：(每個答案 3 分，共 17 分)

1.



- (1) 從學校經過書局，再到便利商店共幾公尺？
- (2) 從學校經過公園，再到便利商店共幾公尺？
- (3) 從學校到書局和從學校到公園，相差多少公尺？

2. 媽媽早上帶了一些錢到市場，花了 260 元後，還剩下 140 元，媽媽原來帶了多少元？(4 分)

3. 便當店中午賣了一些便當，晚上賣了 54 個便當，一共賣了 70 個便當，中午賣了幾個便當？(4 分)

恭喜你完成了考試卷，記得檢查三遍哦！